



INVESTICE DO ROZVOJE VZDĚLÁVÁNÍ

## DUM 18 téma: Práce s lineárním polem

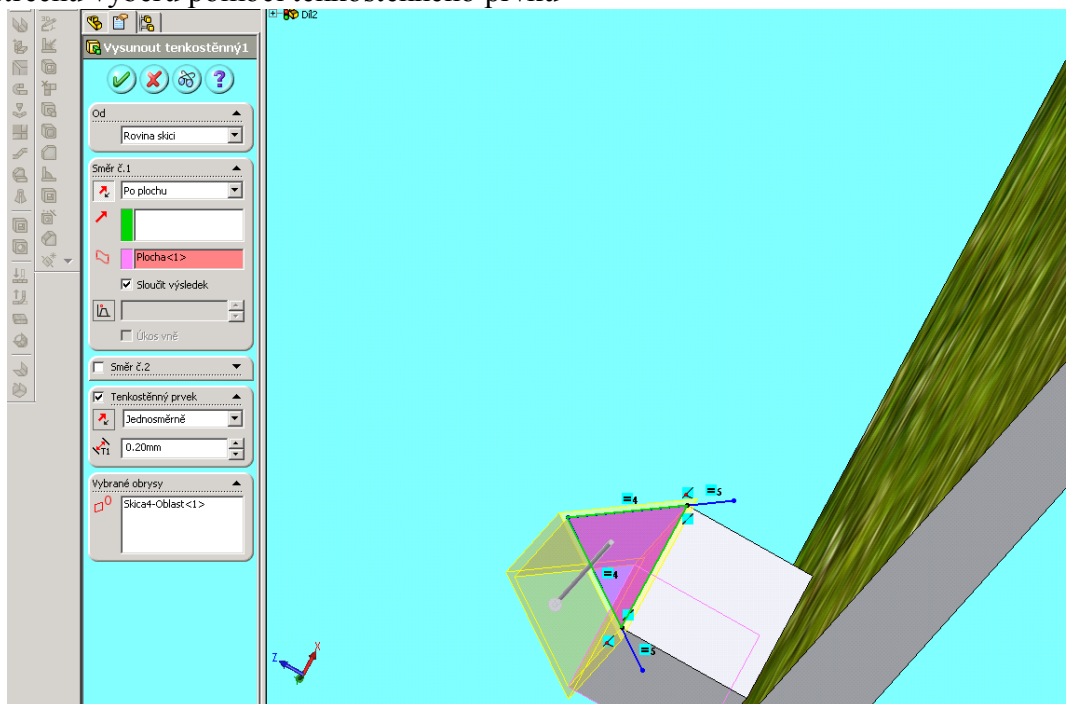
ze sady: 1                      tematický okruh sady: Vektorová Grafika  
ze šablony: 09 – Počítačová grafika                      určeno pro: 2. ročník  
vzdělávací obor: 18-20-M/01 Informační technologie  
vzdělávací oblast: odborné vzdělávání  
metodický list/anotace: viz VY\_32\_INOVACE\_09118ml.pdf  
pomocné soubory: osada.sldprt

## INVESTICE DO ROZVOJE VZDĚLÁVÁNÍ

1. Vytvořte desku 100x150x5 dejte jí trávový povrch a v levém horním rohu vytvořte barák 5x10x5 vzdálený od kraje 2 a 2. Nezapomeňte při vytváření dílu odškrtnout sloučit výsledek.

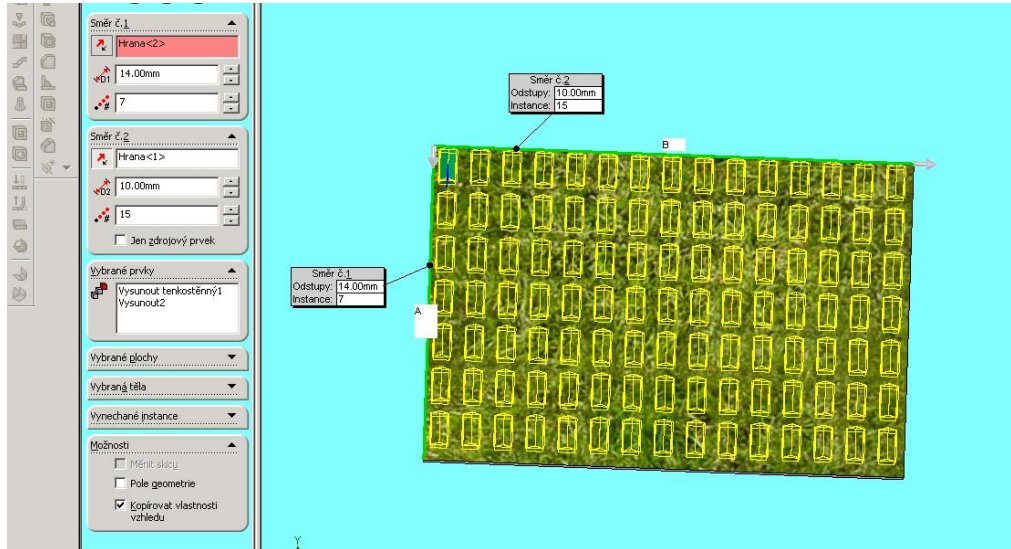


2. střechu vyberu pomocí tenkostěnného prvku




INVESTICE DO ROZVOJE VZDĚLÁVÁNÍ

3. dále pomocí lineární pole vytvořte osadu směr číslo 1 (hrana A) číslo 2(hrana B) vybrané prvky bude celý barák



a vznikne sídliště



nakonec předved'te vyučujícímu