



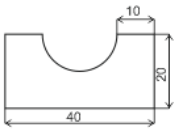
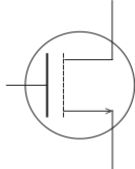

INVESTICE DO ROZVOJE VZDĚLÁVÁNÍ

DUM 7 téma: Kreslení objektů

ze sady: 1 tematický okruh sady: Vektorová grafika
ze šablony: 9 – Počítačová grafika určeno pro: 2. ročník
vzdělávací obor: 18-20-M/01 Informační technologie
vzdělávací oblast: odborné vzdělávání
metodický list/anotace: VY_32_INOVACE_09107ml.pdf
pomocné soubory: kresby.cdr

I. Procvičování

Nakreslete následující objekty v programu Corel, a popište nástroje, které jste k tomu použili:

II. Cvičení – dopravní značky

Nakreslete následující dopravní značky:

INVESTICE DO ROZVOJE VZDĚLÁVÁNÍ

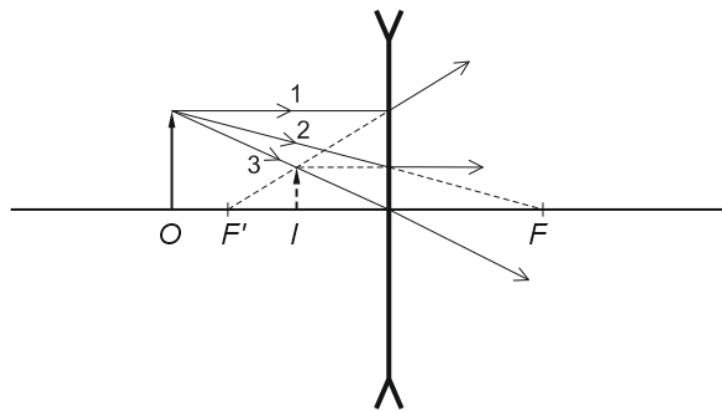
- Prikázaný směr jízdy,
- pozor přechod pro chodce,
- nebezpečná krajnice,
- zákaz vjezdu traktorů.

Dále vyberte jednu těžší dopravní značku a dejte ji spolužákovi, aby ji narešlil.

Zajistěte, aby šlo značky snadno zvětšovat a měnit na jiné (správné seskupení objektů a rozmístění do vrstev).

III. Cvičení – schémata

Nakreslete obrázek do učebnice Fyziky. Při kreslení dbejte na to, ať jsou zachovány fyzikální zákony, které má obrázek vysvětlit!



Nakreslete schéma zapojení pro měření bipolárního tranzistoru. Dodržte všechna pravidla, která znáte za základů elektrotechniky pro kreslení schémat!

