



evropský
sociální
fond v ČR



EVROPSKÁ UNIE



MINISTERSTVO ŠKOLSTVÍ,
MLÁDEŽE A TĚLOVÝCHOVY



INVESTICE DO ROZVOJE VZDĚLÁVÁNÍ

DUM 15 téma: Test 3

ze sady: 2 tematický okruh sady: **Tvorba statických www stránek s použitím CSS**

ze šablony: 08 – Internet určeno pro: 3. ročník

vzdělávací obor: 18-20-M/01 Informační technologie

vzdělávací oblast: odborné vzdělávání

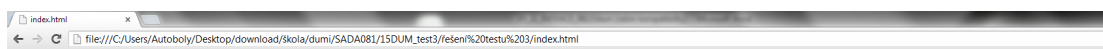
metodický list/anotace: viz VY_32_INOVACE_08115ml.pdf

pomocné soubory: ./řešení testu 3/

INVESTICE DO ROZVOJE VZDĚLÁVÁNÍ

1. Vypracujte úlohy dle zadání postupně dle zadaných kritérií

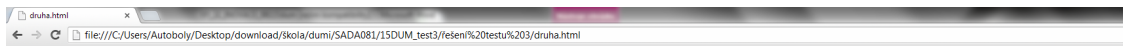
- a. První strana HTML dokumentu se bude jmenovat index.html. Nahoře bude odkaz na další stranu (druha.html). Velikost textu odkazu bude 10. Dole bude text „Tyto stránky byly vytvořeny **vaše jméno** jako testová úloha VY_32_INOVACE_08115dum“ Formátování upravte podle obrázku. Velikost písma jméno studenta bude 8 a červené barvy.



další strana =>

Tyto stránky byly vytvořeny **jméno studenta** jako *testová* úloha VY_32_INOVACE_08115dum

- b. Druhá strana HTML dokumentu se bude jmenovat druha.html. Nahoře bude odkaz na předchozí stranu (index.html) a na následující stranu (treti.html) pod ní bude tabulka viz obrázek.



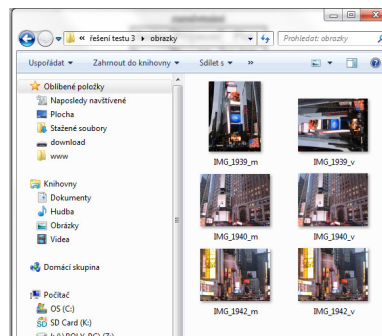
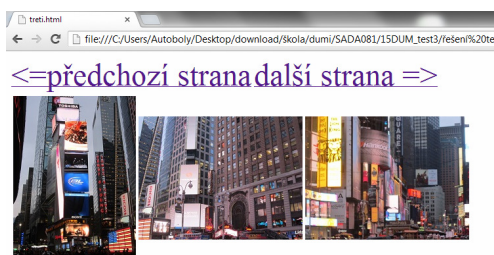
<=předchozí strana další strana =>

Tabulka uchazečů o
zaměstnání

Jméno	Příjmení	Plat
Jonatan	Ronaldo	16 200,-
Roman	Jednotný	18 000,-
suma :		34 200,-

- c. Třetí strana HTML dokumentu se bude jmenovat treti.html. Nahoře bude odkaz na předchozí stranu (druha.html) a na následující stranu (ctvrta.html). Na obrázku níže vidíte fotogalerii, stáhněte si z google 3 vámi vybrané obrázky a uložte je do složky **obrazky** pomocí malování vytvořte jejich zmenšené verze o šířce 250px. Z těchto obrázků, vytvořte fotogalerii, viz obrázek níže.

INVESTICE DO ROZVOJE VZDĚLÁVÁNÍ




- d. Čtvrtá strana HTML dokumentu se bude jmenovat `ctvrta.html`. Nahoře bude odkaz na předchozí stranu (`treti.html`) a na následující stranu (`pata.html`). Vytvořte víceúrovňový seznam viz obrázek níže.



- a. savci
 - Koala
 - Klokan
 - Myš
 - Veverka
- b. ptáci
 - Kachna
 - Racek
 - Káně

- e. Pátá strana HTML dokumentu se bude jmenovat `pata.html`. Nahoře bude odkaz na předchozí stranu (`ctvrta.html`). A dole bude formulář, viz obrázek.



Vypracovanou úlohu předved'te vyučujícímu.